



**Prefeitura  
de Rolândia**



**SECRETARIA MUNICIPAL DE EDUCAÇÃO**

**ATIVIDADES COMPLEMENTARES DE ESTUDO – COVID 19**

**20º ROTEIRO DE ATIVIDADES DE ESTUDO COVID 19.**

**ESCOLA MUNICIPAL GERALDA CHAVES TIRADENTES**

**ALUNO(a) \_\_\_\_\_ SALA DE RECURSO**

**COMPONENTES CURRICULARES: LÍNGUA PORTUGUESA E MATEMÁTICA.**

**PERÍODO DE REALIZAÇÃO: 21/09/2020 à 25/09/2020**

**Senhores pais e responsáveis**

Vocês estão recebendo as **Atividades Complementares de Estudo para o período de isolamento-COVID 19**. Necessito muito de sua participação para que essas atividades sejam realizadas pelo seu filho. Os senhores precisam organizar um tempo, em casa, para a realização das atividades e para que seu filho possa estudar com tranquilidade.

No roteiro a seguir estão as atividades e todas as orientações para sua execução. Tudo está descrito de forma simples. Mas se houver alguma dúvida podem entrar em contato pelo *Whatsapp*, estarei à disposição para ajudá-los.

O que vamos aprender? LÍNGUA PORTUGUESA: Leitura, interpretação e escrita.


MATEMÁTICA: Percepção visual, sequência, posição e números.

Para que vamos aprender esses conteúdos? Realizar a leitura, a interpretação e a escrita.

Identificar e escrever os números. Desenvolver a atenção, concentração, discriminação visual e lateralidade.




Como vamos registrar esses conteúdos? Realizar nas folhas impressas ou no caderno.

CONTE QUANTOS MACACOS TEM DENTRO DO QUADRADO.










CONTE QUANTOS MACACOS TEM DENTRO DO QUADRADO COM:

- 1- QUANTOS MACACOS TEM COM A MÃO NA ORELHA?
- 2- QUANTOS MACACOS ESTÃO COM A MÃO NA BOCA?
- 3- QUANTOS MACACOS ESTÃO COM A MÃO NO OLHO?



OBSERVE A GRAVURA E RESPONDA QUANTAS FRUTAS VOCÊ VÊ

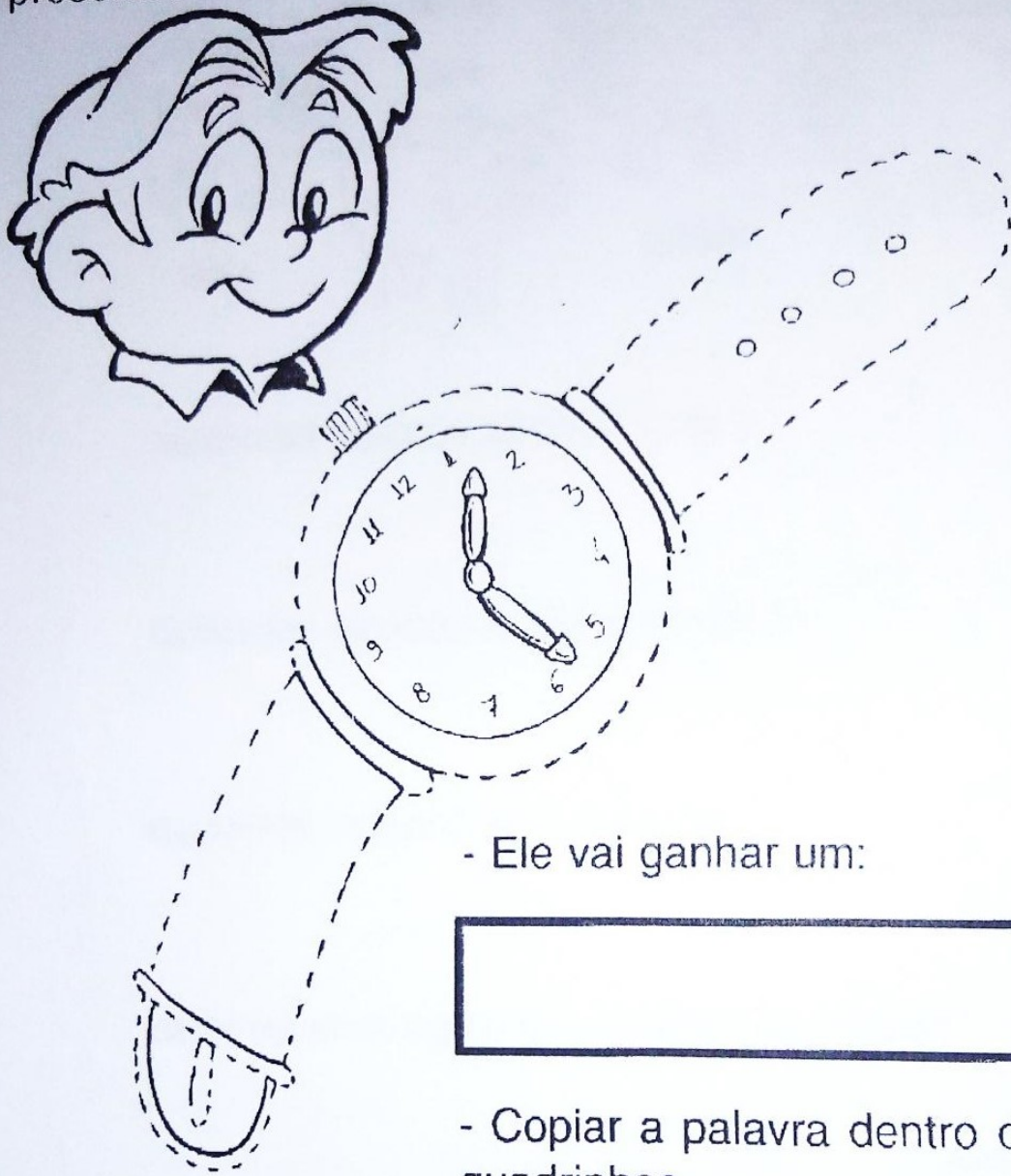
QUANTAS ?	
NÚMERO	EXTENSO
	  _____
	  _____
	  _____

ESCREVA O NOME DAS FRUTAS ACIMA

---

---

- Ligar os pontos e ver o que o papai de Pedro ganhará de presente.



- Ele vai ganhar um:

- Copiar a palavra dentro dos quadrinhos.

--	--	--	--	--	--	--

(relógio)

Quantas letras tem a palavra?

# PINTANDO QUANTIDADE

PINTE O NÚMERO DE CÍRCULOS CORRESPONDENTE À QUANTIDADE DE FIGURAS DE CADA FILEIRA E, DEPOIS, ESCREVA NO ESPAÇO AO LADO.

